



**PRUEBA LIBRE PARA LA OBTENCIÓN DEL TÍTULO DE GRADUADO
EN EDUCACIÓN SECUNDARIA OBLIGATORIA.**

Modelo 1 Convocatoria 2012

ÁMBITO SOCIAL

(DOS HORAS)

DATOS PERSONALES

Apellidos:

Nombre:

D.N.I.

Fecha de nacimiento:

Sede:

Tribunal nº:

CALIFICACIÓN



PARTE I. CONCEPTOS BÁSICOS. 2 PUNTOS.

1. Defina los siguientes conceptos: (1'6 puntos)

Imperialismo. (0'4 puntos)

Encomienda. (0'4 puntos)

Mundialización. (0'4 puntos)

Discriminación positiva. (0'4 puntos)

2. Coloque cada uno de estos conceptos con la definición que le corresponda: (0'4 puntos)

Glasnost, ONG, Renta per cápita, Tecnócrata.

Son instituciones de carácter privado que actúan independientemente de los Estados y de los organismos oficiales. Se preocupan por una gran variedad de temas: la salud pública, el hambre, la pobreza, la cultura, los derechos humanos, la conservación del medio ambiente.	
Especialista en alguna materia relacionada con la economía y la administración. Se caracteriza porque intenta buscar siempre soluciones técnicas a los problemas económicos, por encima de consideraciones ideológicas, políticas o de cualquier otra índole.	
Es el resultado de dividir el PIB entre el número de habitantes de un país, y la cifra resultante es indicadora de su mayor o menor riqueza.	
Medida de <i>transparencia</i> , que unido a la de <i>reestructuración</i> , forman parte de un amplio proceso de nueva política que puso en marcha Gorbachov, y cuya finalidad era, principalmente, acabar con la Guerra Fría y abrir un período de paz.	

PARTE II. COMPRENSIÓN Y ANÁLISIS. 3 PUNTOS.

3. Lea el siguiente texto y conteste a las preguntas. (1'5 puntos)

El Ministerio de Industria prevé un crecimiento del turismo británico en España en 2012

XXXII edición del WTM de Londres
07/11/2011

Los Príncipes de Asturias visitan el World Travel Market, la feria de turismo más importante del mundo, acompañados por el secretario de Estado de Comercio Exterior y el secretario general de Turismo y Comercio Interior.

España está representada en 2.800 metros cuadrados a través de stands de Comunidades Autónomas y compañías privadas. El stand de Instituto de Turismo de España, Turespaña, cuenta con 600 metros cuadrados y 62 participantes.

Las llegadas de turistas británicos en los nueve primeros meses subieron un 9,2%, hasta superar los 11 millones. El 85,8% de los británicos que viajan a España vuelve a visitarnos y el 42,2% repite por décima vez.

Nota de prensa del Ministerio Industria, Energía y Turismo

a) ¿Qué es el turismo? (0'5 puntos)

b) Explique los factores que condicionan el desarrollo de tal actividad. (0'5 puntos)

c) Señale y defina el sector económico al que pertenece. Mencione otras dos actividades relacionadas con este sector. (0'5 puntos)

4. Lea el siguiente texto y conteste a las preguntas. (1'5 puntos)

Renuncia de Amadeo de Saboya a las Cortes Españolas el 11 de febrero de 1873

“Dos años largos ha que ciño la corona de España, y la España vive en constante lucha, viendo cada día más lejana la era de paz y de ventura que tan ardientemente anhelo. Si fueran extranjeros los enemigos de su dicha, entonces, al frente de estos soldados tan valientes como sufridos, sería el primero en combatirlos; pero todos los que con la espada, con la pluma, con la palabra agravan y perpetúan los males de la nación son españoles; todos invocan el dulce nombre de la patria; todos pelean y se agitan por su bien, y entre el fragor del combate, entre el confuso, atronador y contradictorio clamor de los partidos, entre tantas y tan opuestas manifestaciones de la opinión pública, es imposible afirmar cuál es la verdadera, y más imposible todavía hallar remedio para tamaños males. Los he buscado ávidamente dentro de la ley y no lo he hallado. Fuera de la ley no ha de buscarlo quien ha prometido observarla.”

a) ¿Qué circunstancias políticas se suceden en España para que Amadeo de Saboya asuma la corona? (0'5 puntos)

b) Explique las condiciones políticas, económicas y sociales de España en el siglo XIX. (0'5 puntos)

c) ¿Qué sistema de gobierno se implanta en España después de esta renuncia? ¿Qué caracteriza a esta forma de gobierno? Señale en qué otro momento de la historia de España se va a establecer. (0'5 puntos)

PARTE III. INTERPRETACIÓN DE INFORMACIÓN. 3 PUNTOS.

5. Conteste a las preguntas sobre el siguiente plano. (1'5 puntos)






a) ¿Qué es un plano? Definición de espacio urbano. (0'5 puntos)

b) ¿Cómo organizaban los romanos sus núcleos urbanos? (0'5 puntos)

c) Describa las distintas funciones que puede desarrollar una ciudad. (0'5 puntos)

6. Conteste a las preguntas sobre las siguientes imágenes. (1'5 puntos)

		
<p>(0,5 puntos)</p>	<p>(0,5 puntos)</p>	<p>(0,5 Puntos)</p>
<p>Título de la obra:</p> <p>Autor:</p> <p>Período artístico:</p> <p>Características:</p>	<p>Título de la obra:</p> <p>Período artístico:</p> <p>Características:</p>	<p>Título de la obra:</p> <p>Autor:</p> <p>Período artístico:</p> <p>Características:</p>

PARTE IV. ELABORACIÓN DE TEXTOS. 2 PUNTOS.

7. Realice una redacción de un mínimo de 150 palabras sobre el siguiente tema:

“La sociedad en la Península Ibérica durante la Edad Media”

Para elaborar la redacción puede tener en cuenta los siguientes elementos:

- Estamentos sociales.
- Reinos cristianos.
- Al-Andalus.