



**PRUEBA LIBRE PARA LA OBTENCIÓN DEL TÍTULO DE GRADUADO  
EN EDUCACIÓN SECUNDARIA OBLIGATORIA.**

**Modelo 2 Convocatoria 2012**

**ÁMBITO SOCIAL**

(DOS HORAS)

**DATOS PERSONALES**

**Apellidos:**

**Nombre:**

**D.N.I.**

**Fecha de nacimiento:**

**Sede:**

**Tribunal nº:**

**CALIFICACIÓN**



**PARTE I. CONCEPTOS BÁSICOS. 2 PUNTOS.**

**1. Defina los siguientes conceptos: (1'6 puntos)**

**Clima. (0'4 puntos)**

**Feudalismo. (0'4 puntos)**

**Monocultivo. (0'4 puntos)**

**Antiguo Régimen. (0'4 puntos)**

2. Coloque cada uno de estos conceptos con la definición que le corresponda: (0'4 puntos)

**Proletariado, Unión Europea (UE), Desamortización, Plataforma continental.**

Acción que expropia tierras o bienes no productivos que eran subastados y comprados por la burguesía.	
Clase social formada por los obreros asalariados de la sociedad capitalista.	
Acuerdo político entre los países de Europa en los que se crea un mercado único con una moneda común.	
Superficie de un fondo submarino próximo a la costa y situado entre esta y profundidades inferiores a 200 metros. En ella abunda la vida animal y vegetal por lo que es de gran importancia económica.	

**PARTE II. COMPRENSIÓN Y ANÁLISIS. 3 PUNTOS.**

**3. Lea el siguiente texto y conteste a las preguntas. (1'5 puntos)**

**Ley Orgánica del Estado**

Art. 6. El Jefe del Estado es el representante supremo de la Nación; personifica la soberanía nacional; ejerce el poder supremo político y administrativo; ostenta la Jefatura Nacional del Movimiento y cuida de la más exacta observancia de los Principios del mismo y demás Leyes fundamentales del Reino, así como de la continuidad del Estado y del Movimiento Nacional; garantiza y asegura el regular funcionamiento de los Altos Órganos del Estado y la debida coordinación entre los mismos; sanciona y promulga las leyes y provee a su ejecución; ejerce el mando supremo de los Ejércitos de Tierra, Mar y Aire; vela por la conservación del orden público en el interior y de la seguridad del Estado en el exterior; en su nombre se administra justicia; ejerce la prerrogativa de gracia; confiere, con arreglo a las leyes, empleos, cargos públicos y honores; acredita y recibe a los representantes diplomáticos y realiza cuantos actos le corresponden con arreglo a las Leyes fundamentales del Reino.

*Boletín Oficial del Estado, 11-1- 1967*

**a) Resuma las ideas principales del texto. (0'5 puntos)**

**b) Características del franquismo. (0'5 puntos)**

**c) La Transición española. (0'5 puntos)**

**4. Lea el siguiente texto y conteste a las preguntas. (1'5 puntos)**

**Viaje a la herida del tsunami**

La tierra tembló a las 14.46 de aquel viernes bajo el mar y desencadenó el gigantesco maremoto, corrimientos de tierras, incendios en refinerías y el mayor desastre nuclear que ha sufrido el mundo desde Chernobil (1986).

En muchos lugares de los cientos de kilómetros de la costa de Japón destrozados por el maremoto, la masa de océano superó los 13 metros de altura (el equivalente a cuatro pisos), y en algunos puntos llegó a 30 o 40 metros. Se rompieron 45 diques y fueron dañados 78 puentes y 3.918 carreteras. Aún hoy siguen desplazadas de sus hogares 343.000 personas. El Gobierno estima en 16,9 billones de yenes (156.500 millones de euros) los daños en edificios, infraestructuras, vehículos, fábricas e instalaciones agrícolas y pesqueras, entre otros.

La magnitud de la tragedia humana provocada por el peor terremoto que ha sufrido Japón en su historia se vio eclipsada por la crisis desencadenada en la central nuclear de Fukushima 1, situada unos 240 kilómetros al noreste de Tokio. El tsunami, de unos 14 metros de altura, dañó gravemente tres de los seis reactores de la planta, que había sido diseñada para un maremoto de un máximo de 5,7 metros. La emergencia atómica no causó ninguna muerte de forma directa, pero forzó la evacuación de 80.000 personas como consecuencia de las fusiones registradas en los reactores y las fugas radiactivas, que afectaron a alimentos, agua y producción agrícola y ganadera, y provocaron la huida de miles de personas de Japón.

José Reinoso. Rikuzentakata. 2 MAR 2012 - 15:59 CET,  
*El País Internacional on-line.*

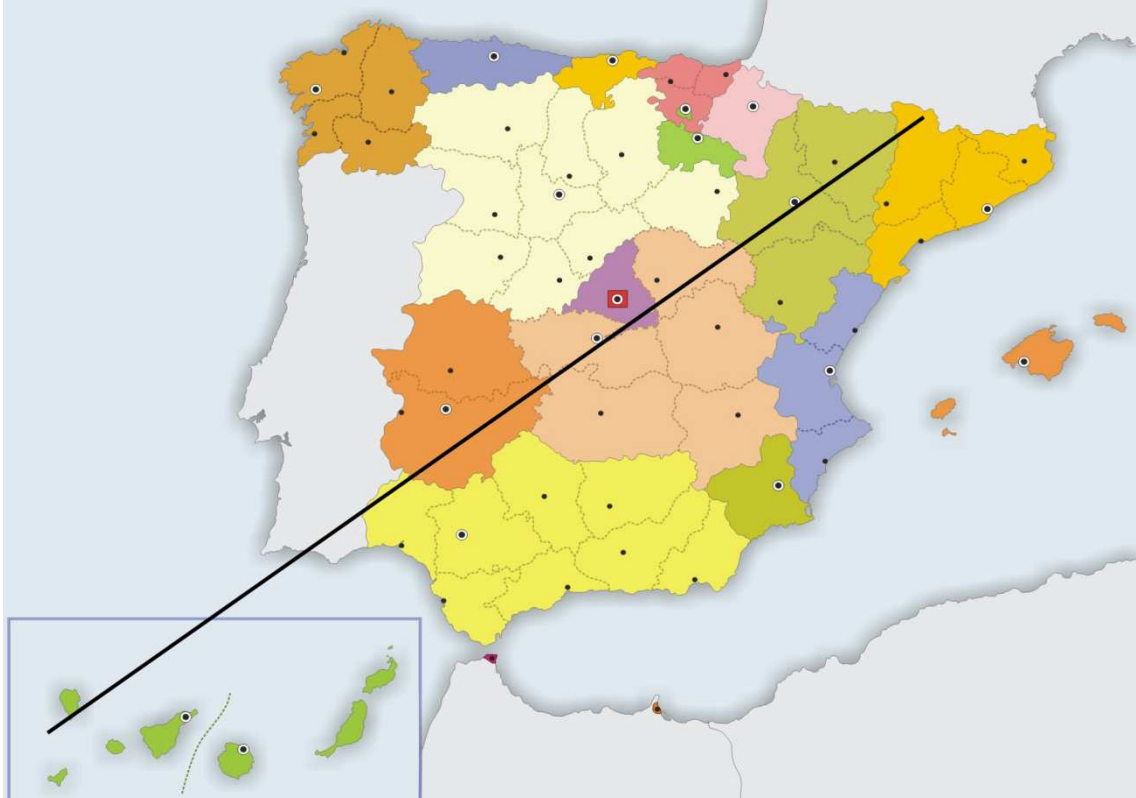
**a) Explique qué son las placas tectónicas, sus movimientos y consecuencias. (0'5 puntos)**

**b) La energía nuclear, ventajas e inconvenientes. (0'5 puntos)**

**c) Nombre las fuentes de energía renovables y explique de dónde se obtienen. (0'5 puntos)**

**PARTE III. INTERPRETACIÓN DE INFORMACIÓN. 3 PUNTOS.**

**5. Conteste a las preguntas sobre el siguiente mapa. (1'5 puntos)**






**a) Indique las comunidades autónomas y provincias e islas que atraviesa la línea de norte a sur. (0'5 puntos)**

**b) Mencione, al menos, tres ríos y sistemas montañosos de los que atraviesa la línea. (0'5 puntos)**



c) Cite los ríos (y al menos dos afluentes) y sistemas montañosos (con alguna sierra), de Extremadura. (0'5 puntos)

6. Conteste a las preguntas sobre las siguientes imágenes. (1'5 puntos)

 <p>(0,5 puntos)</p>	 <p>(0,5 puntos)</p>	 <p>(0,5 Puntos)</p>
<p>Título de la obra:</p> <p>Autor:</p> <p>Período artístico:</p> <p>Características:</p>	<p>Título de la obra:</p> <p>Período artístico:</p> <p>Características:</p>	<p>Título de la obra:</p> <p>Autor:</p> <p>Características:</p>

**PARTE IV. ELABORACIÓN DE TEXTOS. 2 PUNTOS.**

**7. Realice una redacción de un mínimo de 150 palabras sobre el siguiente tema:**

**“El medio ambiente y su conservación”**

Para elaborar la redacción puede tener en cuenta los siguientes elementos:

- Explotación de los recursos naturales.
- Alteración de los ecosistemas.
- Nuestra contribución al desarrollo sostenible.