

**PRUEBA LIBRE PARA LA OBTENCIÓN DEL TÍTULO DE GRADUADO EN  
EDUCACIÓN SECUNDARIA OBLIGATORIA.**

**Curso 2014/15**

**ÁMBITO SOCIAL**

(DOS HORAS)

**DATOS PERSONALES**

Apellidos:

Nombre:

D.N.I.

Fecha de nacimiento:

Lugar de realización de la prueba:

Tribunal nº:	<input type="text"/>	Sede Administrativa:	<input type="text"/>
--------------	----------------------	----------------------	----------------------

**CALIFICACIÓN**

<input type="text"/>
----------------------

**PARTE I. CONCEPTOS BÁSICOS. 2 PUNTOS**

**I. Defina los siguientes conceptos: (1'6 puntos)**

**a) Regeneracionismo: (0,4 puntos)**

**b) Pesca de altura: (0,4 puntos)**

**c) Guerra Fría: (0,4 puntos)**

**d) Reforma protestante: (0,4 puntos)**

**2. Coloque cada uno de estos conceptos con la definición que le corresponda: (0'4 puntos)**

**Mansos, Menhir, Recurso Natural, Libros de fuegos**

<p>Fuente demográfica empleada en la Edad Media en la que se indicaba el número de casas (o fuegos) de las poblaciones donde se realizaba el recuento poblacional.</p>	
<p>Aquel que forma parte de la naturaleza y que el hombre, aprovechando las posibilidades de la tecnología, puede cambiar en su propio beneficio.</p>	
<p>Construcción megalítica basada en las colocaciones verticales de una o varias piedras hincadas en el suelo. Su significado es desconocido aunque se suelen relacionar con el culto al Sol o con demarcaciones socio-territoriales de los diferentes grupos del momento.</p>	
<p>Tierras cedidas por el señor a los campesinos a cambio de una parte del producto obtenido y de prestaciones personales, como trabajar en la reserva señorial o en el castillo.</p>	

**PARTE II. COMPRENSIÓN Y ANÁLISIS. 3 PUNTOS****3. Lea el siguiente texto y conteste a las preguntas relacionadas con él: (1,5 puntos)**

“Los reyes son llamados justamente dioses, pues ejercen un poder similar al divino. Pues si consideráis los atributos de Dios, veréis cómo se encuentran en la persona de un rey (...). De la misma forma que es impío y sacrílego hacer un juicio sobre los actos de Dios, igualmente es temerario e inconsciente para un súbdito criticar las medidas tomadas por el rey.”

Jacobo I de Inglaterra. Reinó entre 1603 y 1625.

**a) Identifique y explique las características del tipo de gobierno que describe el texto. (0,5 puntos)**

**b) Explique el tipo de sociedad y los rasgos de los grupos sociales existentes en ese momento histórico. (0,5 puntos)**

**c) ¿Cuáles son los movimientos de oposición más importantes que van a luchar contra este Sistema? (0,5 puntos)**

**4. Lea el siguiente texto y conteste a las preguntas relacionadas con él: (1,5 puntos)**

**VIVIMOS EN UN MUNDO COMPLEJO**

La industria pesada ha evolucionado hasta el punto en que cualquier proceso de producción se basa en un conjunto de operaciones, maquinaria y personas. Y si el rendimiento de sólo uno de estos elementos queda por debajo de su nivel óptimo, no sólo nos enfrentamos a una pérdida de productividad y un aumento de costes de fabricación, sino, y esto es lo más importante, a riesgos para la seguridad de los empleados. Si agregamos a la ecuación el cambio constante, tanto si se trata de normativa medioambiental como del aumento de la globalización del sector industrial, sentiremos fácilmente que las circunstancias son desfavorables.

quakerchem.com

**a) Defina el sector económico al que se refiere el texto. (0,5 puntos)**

**b) Realice la clasificación de los tipos de industria y explíquelos. (0,5 puntos)**

**c) Indique los elementos que hacen posible el proceso industrial y explíquelos. (0,5 puntos)**

**PARTE III. INTERPRETACIÓN DE INFORMACIÓN. 3 PUNTOS**

**5. Conteste a las cuestiones sobre el siguiente mapa: (1,5 puntos)**






**a) Escriba el nombre de los continentes y océanos del planeta. Enumérelos y coloque el número correspondiente en su lugar del mapa. (0, 5 puntos)**



**b) Explique los factores que intervienen en la formación del relieve terrestre. (0, 5 puntos)**

**c) Describa las principales formas del relieve terrestre. (0, 5 puntos)**

**6. Conteste a las preguntas sobre las siguientes imágenes: (1, 5 puntos)**

		
<p><b>Título de la obra:</b></p> <p><b>Localización:</b></p> <p><b>Periodo artístico:</b></p> <p><b>Características:</b></p>	<p><b>Título de la obra:</b></p> <p><b>Autor:</b></p> <p><b>Período artístico:</b></p> <p><b>Características:</b></p>	<p><b>Título de la obra:</b></p> <p><b>Periodo artístico:</b></p> <p><b>Características:</b></p>

**PARTE IV. ELABORACIÓN DE TEXTOS. 2 PUNTOS**

**7. Realice una redacción de un mínimo de 150 palabras sobre el siguiente tema: “Los avances científicos y tecnológicos en el mundo actual”**

Para elaborar la redacción se deberá de tener en cuenta los siguientes aspectos:

- ¿Quiénes se benefician de ellos?
- Ventajas e inconvenientes
- Conclusiones propias